


# РАЗВИТИЕ ЛОГИЧЕСКОГО МЫШЛЕНИЯ У ДЕТЕЙ 6-7 лет

*Рекомендации для родителей  
педагогом-психологом  
Яппаровой Н.В.*



2020г.

## Задачи от Незнайки

Сколько цыплят вывел петух, если он  
снёс 4 яйца?




На ветке сидели 5 рыб. К ним прилетели ещё 2 рыбы.  
Сколько всего стало рыб?



Кто быстрее доплывёт до другого берега – цыплёнок или  
утёнок?



На столе лежат 2 яблока и 3 груши.  
Сколько всего овощей лежит на столе?



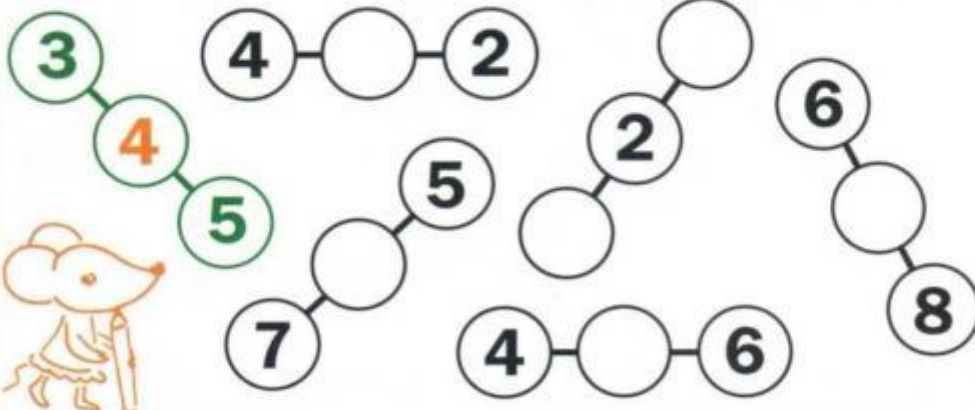
6



У числа **3** соседи 2 и 4

У числа **5** соседи 4 и 6


Допиши числа-соседи



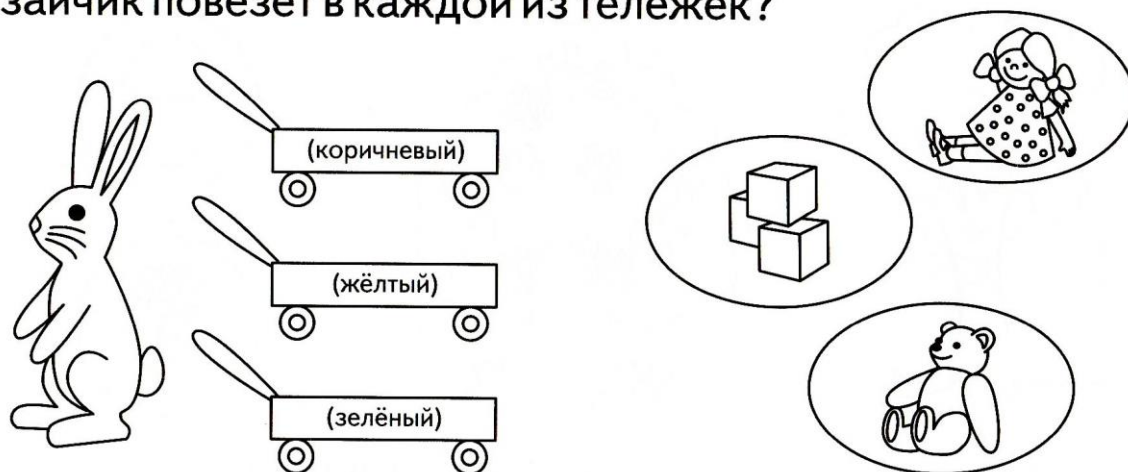
Соедини пары варежек.

Сколько всего пар?


Закрась ответ



У зайчика три тележки разного цвета: жёлтая, зелёная, коричневая. В жёлтой тележке он повезёт не куклу и не кубики. В зелёной - не куклу и не мишку. Что зайчик повезёт в каждой из тележек?




Кате, Маше и Свете мама купила кофты разного цвета. У Кати кофта не красная и не зелёная. У Маши - не зелёная и не жёлтая. У Светы - не жёлтая и не красная. Каким цветом кофта у Кати, Маши и Светы?



На поляне росли три дерева: берёза, ёлка и дуб. Дуб выше берёзы, а берёза выше ёлки. Какое дерево самое высокое, а какое самое низкое?




Мотоцикл ехал быстрее, чем легковая машина, а легковая машина - быстрее, чем грузовик. Что ехало быстрее всех, а что медленнее всех?





Помоги ежику добраться до яблока.  
Иди по камушкам от 1 до 20



**3** Составь задачи по кратким записям и реши их.

Было 7 .  
 Разбили 3 .  
 Сколько  осталось?

--	--	--	--	--	--	--	--	--	--

**Ответ:** осталось

стакана.

Было 4 .  
 Принесли ещё 4 .  
 Сколько всего  ?

--	--	--	--	--	--	--	--	--	--

**Ответ:** всего

книг.

**4** На какой цветок сядет каждая бабочка? Соедини линиями цветки и бабочек.

